

Проект: задачи в  
картинках 76  
класс

---

Краеведение  
Искусство  
Математика

РИСУЕМ  
ЗАДАЧИ

Проектная  
деятельность  
7 «б» класс


# Задачи по теме «Русская изба»



- На полке помещается 4 горшка. Получилось три полки полных и на четвертой осталось 2 горшка. Сколько в доме горшков?

Художник: А. Кравченко


# Задачи по теме «Русская изба»



- На полке помещается 4 горшка. Получилось три полки полных и на четвертой осталось 2 горшка. Сколько в доме горшков?


Художник: Иван Акборисов

# Задачи по теме «Русская изба»



- Для варенья из малины на 2 части ягод берут части сахара. Сколько сахара следует взять на 2 кг 600 г ягод?


# Задачи по теме «Русская изба»



- Крестьянский дом построен из брёвен. Для того чтобы высота потолка была 2 м 25 см, нужен сруб из 1 венцов (рядов брёвен). Какого диаметра бревна пошли на строительство дома

# Задачи по теме «Колокольчики-бубенчики»

- Два теплохода вышли одновременно из Нижнего Новгорода и идут в одном направлении. Первый теплоход за каждые 1,5 часа проходит 37,5 км, а второй теплоход за каждые 2 часа проходит 45 км. Через сколько времени первый теплоход будет находиться от второго на расстоянии 10 км?



Художник: Дарья Крохалёва

# Задачи по теме «Колокольчики-бубенчики»



- Дорога от своей деревни до соседней, занимает у Ивана 0,5 ч. В соседнюю деревню он едет 6 км/ч, а обратно - со скоростью 3 км/ч. Сколько времени он тратит на обратный путь?



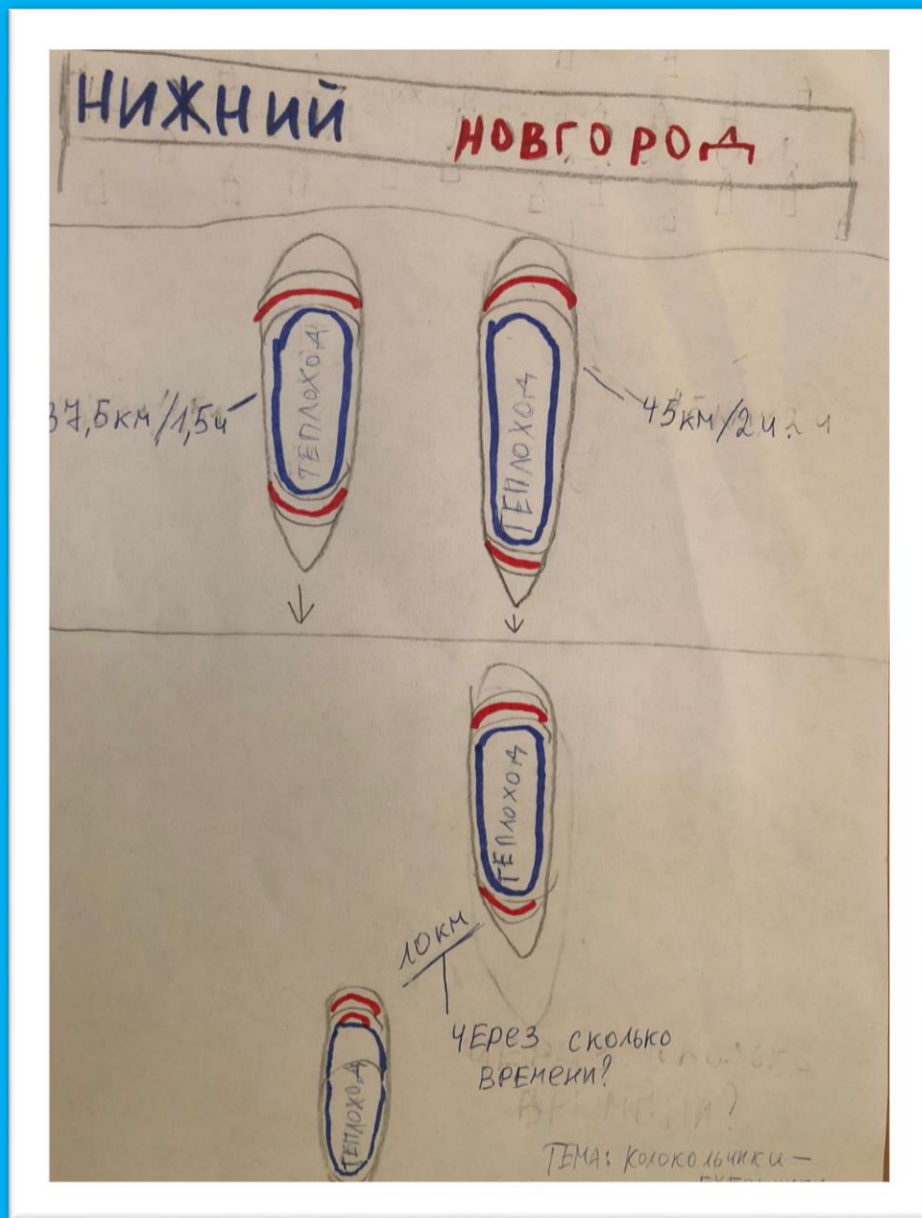
# Задачи по теме «Загадки и тайны Невьянской башни»



Определи, сколько этажей должно быть в доме, чтобы его высота примерно совпадала с высотой Невьянской башни (высота одного этажа примерно 2,5м).

Художник: Тамара Гуляева

## Задачи по теме «Колокольчики-бубенчики звенят»



- Два теплохода вышли одновременно из Нижнего Новгорода и идут в одном направлении. Первый теплоход за каждые 1,5 часа проходит 37,5 км, а второй теплоход за каждые 2 часа проходит 45 км. Через сколько времени первый теплоход будет находиться от второго на расстоянии 10 км?



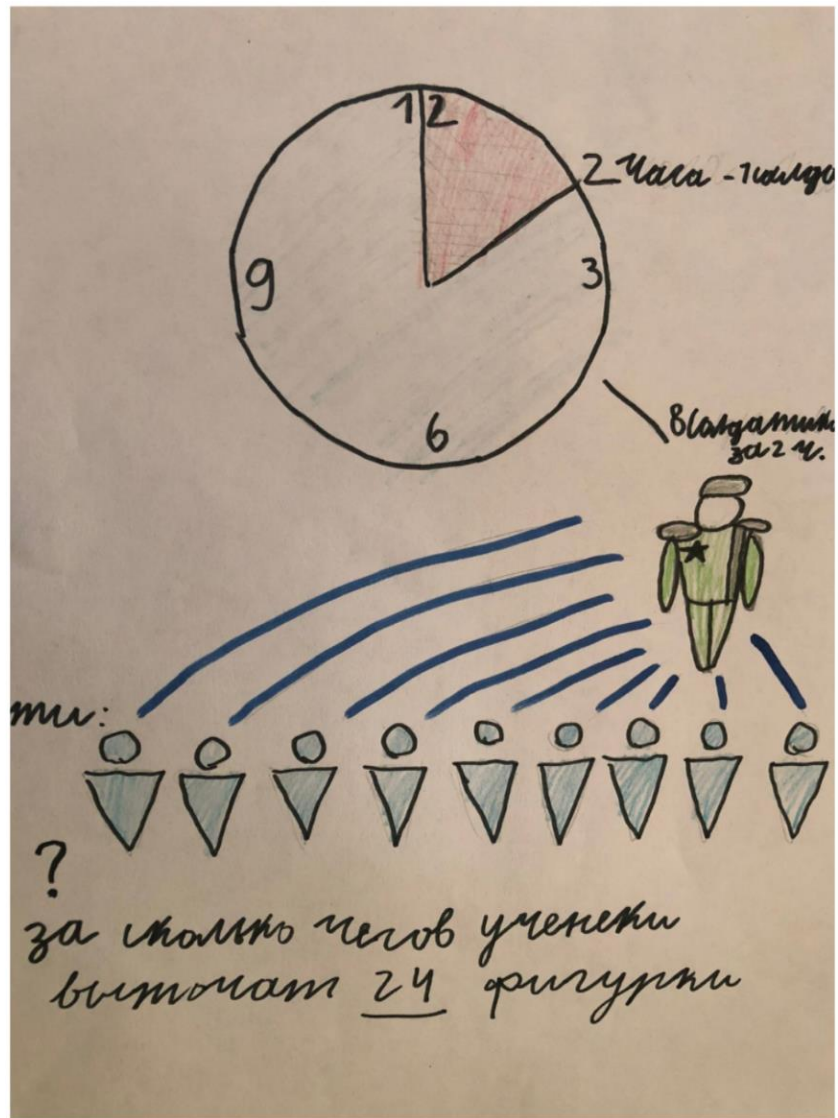
## Задачи по теме «Загадки и тайны Невьянской башни»

- Построй на фото невянской башни вертикаль. Определи, сколько сантиметров сегодня составляет её наибольшее отклонение от вертикали. Сколько градусов?

Художник: Ксения Антропова

## ЗАДАЧИ ПО ТЕМЕ «ХУДОЖЕСТВЕННАЯ ОБРАБОТКА МЕТАЛЛА НА УРАЛЕ»

В мастерской 8  
учеников, каждый за 2  
часа вытачивает 1 фигурку  
солдатика. За сколько  
часов ученики выточат  
24 фигурки солдатиков?



Художник: Данил Казанцев

## Задачи по теме «Колокольчики – бубенчики»



- В 1598 г. Артемий Бабинов устроил почтовую дорогу от Соликамска на Верхотурье и Тюмень. В те времена до Верхотурья от Соликамска считалось 250 верст, и от Верхотурья до Тюмени — около семисот. 1 верста равна 1,0668 км. Какой длины была первая почтовая дорога?

Художник: Никита Пискунов

# Задачи по теме «Колокольчики – бубенчики»



- В 1598 г. Артемий Бабинов устроил почтовую дорогу от Соликамска на Верхотурье и Тюмень. В те времена до Верхотурья от Соликамска считалось 250 верст, и от Верхотурья до Тюмени — около семисот. 1 верста равна 1,0668 км. Какой длины была первая почтовая дорога?

# Какова площадь манежа?



Художник: Рахматуло Иброхимов

- Для выступления гимнастов цирковой группы поверхность манежа выстелили

